

Titlu: Complicat?... Nu! Foarte simplu!

Copyright © 2010

Toate drepturile aparțin **Editurii Sanda**.
Reproducerea integrală sau parțială a textului sau a
ilustrațiilor din această carte este posibilă numai cu
acordul prealabil scris al **Editurii Sanda**.

ISBN 978-606-92679-3-6

Tehnoredactare: Editura Sanda

Coperta: Răzvan Cristea

Descriere CIP

Descrierea CIP a Bibliotecii Naționale a României
DUMITRESCU, DAN
Complicat? Nu, foarte simplu! / Dan Dumitrescu. -
București : Editura Sanda, 2010
ISBN 978-606-92679-3-6

159.9.072:159.95

Tipar: Tipografia Fed Print

Dan Dumitrescu

COMPLICAT?... NU! FOARTE SIMPLU!

TESTE DE INTELIGENȚĂ

EDITURA SANDA



TESTUL 1 DE INTELIGENȚĂ

1. Dublați numărul!

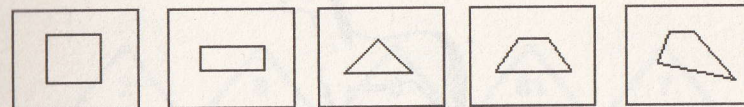


Să se găsească un număr care dublat, este mai mare cu 7 decât sfertul său.

2. Priviți atent!

Care dintre cele 5 figuri de mai jos nu se potrivește cu celelalte 4?

- a) figura a
- b) figura b
- c) figura c
- d) figura d
- e) figura e



a b c d e

3. Nu treceți de Sfinx!



În mitologia grecească, Sfinxul era un monstru cu cap de femeie, corp de leu și aripi de vultur. Sfinxul păzea porțile orașului Teba, punându-le celor ce doreau să intre următoarea ghicitoare:

“Cine merge dimineața în patru picioare, la prânz în două picioare și seara în trei?”

Care este răspunsul acestei șarade?

4. Din opt de opt



Scrieți numărul 100 folosind opt cifre de 8. Deci, opt cifre de opt, cu diferite semne aritmetice între ele, să dea 100!


5. Hai că-i floare la ureche!



Formați din literele E, L, A, C, U, L, B, A și L o propoziție din 3 cuvinte.

Vi se pare greu? Hai, că-i floare la ureche!

6. Schimbați ordinea, și... gata!



Dacă literele cuvântului “TLICANAT” sunt puse în altă ordine, se obține un nume de

- a) ocean
- b) munte
- c) fluviu
- d) animal
- e) floare

7. Două numere ascunse

Ce numere trebuie puse în locul semnelor de întrebare din figura de mai jos, pentru a se păstra succesiunea logică?




Nu-i nicio filosofie, vă asigur!


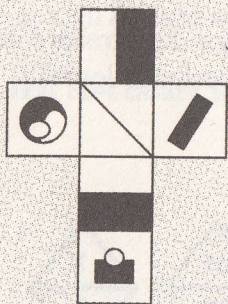
8. Piesele de tangram



Pătratul de mai sus este format din 7 piese de tangram. Folosind numai aceste piese, formați săgeata de mai jos.



9. Împăturiți figura




A



B



C



D



E


Dacă figura plană din stânga se împăturește, se obține un cub, aflat printre cuburile numerotate de la A la E. Care este acel cub?

10. Nepotriveală

Care dintre următoarele litere și cifre nu se potrivește din punct de vedere logic?


M, Ω, 5, 8

11. Cine-s ăștia?



Dacă o parte dintre Toogs sunt Bloogs, și toți Glemșii sunt Bloogs, atunci câțiva Toogs sunt Glemși. Este adevărat?

12. Milioane de autoturisme



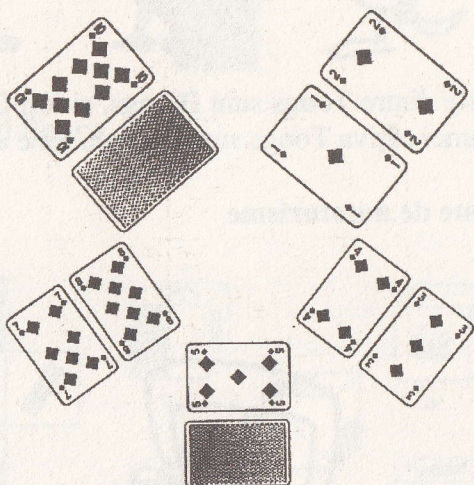
Câte autoturisme pot fi înmatriculate în România, folosind modelul Y XXX YYY, adică o literă, urmată de 3 cifre și apoi de 3 litere?

13. Patru cifre

$$\begin{array}{r} \text{ABCD} \\ \times \quad 7 \\ \hline 3\text{DCBA} \end{array}$$

Să se găsească cele 4 cifre, A, B, C și D, încât să fie respectată înmulțirea de mai sus.

14. Două cărți ascuse!




Găsiți valoarea și culoarea celor două cărți ascuse. Vi se pare greu? Hai, că este ușor!

15. Reducerea de preț

Prețul unui produs a fost redus cu 40%. Cu ce procent trebuie crescut prețul redus pentru a ajunge la valoarea inițială?

- a) 10%
- b) 20%
- c) 40%
- d) 50%
- e) 66,7%

16. Completați careul!



Folosind aceleași simboluri, completați careul de mai sus, astfel încât pe nicio coloană sau linie să nu se afle două simboluri identice.

17. Alte cifre romane

Numărul 1454 se scrie cu cifre romane

- a) MCDLIV
- b) MDCIX
- c) MCLIV
- d) MLDIC
- e) MCDIL